

FRANCAIS

Exercice 1

Nom : _____ Prénom : _____

Lecture

Le panda

Le panda est un grand ours bicolore noir et blanc qui vit dans les montagnes de Chine. C'est un animal timide et discret. Il s'enfuit quand un étranger approche, se réfugie au milieu des bambous ou grimpe rapidement à un arbre.

Le jeune panda est très souple. Quand il se roule sur lui-même, il ressemble à un gros ballon ! Il aime aussi se suspendre dans les arbres et se balancer.

Les dents du panda sont les mêmes que celles des autres ours. Si l'occasion se présente, il mange un rat mort, des insectes, des petits oiseaux. Mais il est trop lent pour capturer des proies. C'est pourquoi il est devenu végétarien. Il passe la moitié de la journée à grignoter les tiges et les feuilles des bambous de la forêt où il vit. Et il ne manque jamais de nourriture, car les bambous poussent très vite !

La femelle panda donne la vie à un bébé dans sa tanière au creux d'un arbre. Bébé panda sait marcher à 5 mois. Sa mère le câline beaucoup et le défend contre ses ennemis, le loup, la panthère, l'ours brun. Il sait se débrouiller tout seul à l'âge de 3 ans.

1) **Que mange principalement le panda ?**

Item 1	1	0	9
--------	---	---	---

2) **Où naît le bébé panda ?**

Item 2	1	0	9
--------	---	---	---

3) **Entoure la réponse qui te semble correcte.**

Item 3	1	0	9
--------	---	---	---

Le panda est un ours bicolore.

Cela veut dire :

- Qu'il a une seule couleur
- Qu'il a deux couleurs
- Qu'il a plus de deux couleurs

4) **À quel âge le bébé panda sait-il marcher ?**

Item 4	1	0	9
--------	---	---	---

Exercice 2

Grammaire

Item 5 1 0 9

Item 6 1 0 9

Item 7 1 0 9

Item 8 1 0 9

Item 9 1 0 9

Recopie chaque mot souligné dans la case correspondante s'il s'agit d'un nom, d'un déterminant, d'un pronom personnel ou d'un adjectif.

	Nom	Déterminant	Pronom Personnel	Adjectif qualificatif
Le panda est un <u>grand</u> ours bicolore noir et blanc.				
C'est un <u>animal</u> timide et discret.				
<u>Il</u> s'enfuit quand un étranger approche.				
<u>Le</u> jeune panda est très souple.				
Il mange un rat <u>mort</u> .				

Exercice 3

Grammaire

Pour chaque phrase, souligne le verbe et entoure le sujet.

La femelle panda donne la vie à un bébé dans sa tanière.

Item 10 1 0 9

Item 11 1 0 9

Il s'enfuit à l'approche d'un étranger.

Item 12 1 0 9

Item 13 1 0 9

Bébé panda sait marcher à 5 mois.

Item 14 1 0 9

Item 15 1 0 9

Le panda est un grand ours bicolore noir et blanc.

Item 16 1 0 9

Item 17 1 0 9

Exercice 4

Grammaire

Fais une phrase avec chaque verbe conjugué.

font _____

Item 18 1 0 9

vient _____

Item 19 1 0 9

dit _____

Item 20 1 0 9

vont _____

Item 21 1 0 9

sera _____

Item 22 1 0 9

Exercice 5
Orthographe

Entoure le mot correct.

une façade	une fasade	Item 23 1 0 9
------------	------------	---------------------

un saussisson	un saucisson	Item 24 1 0 9
---------------	--------------	---------------------

naviger	naviguer	Item 25 1 0 9
---------	----------	---------------------

une baguette	une bagette	Item 26 1 0 9
--------------	-------------	---------------------

Exercice 6
Orthographe

Ecris les mots dictés. Item 27 | 1 | 0 | 9 Item 28 | 1 | 0 | 9 Item 29 | 1 | 0 | 9 Item 30 | 1 | 0 | 9 Item 31 | 1 | 0 | 9

Exercice 7

Vocabulaire Item 32 | 1 | 0 | 9 Item 33 | 1 | 0 | 9 Item 34 | 1 | 0 | 9 Item 35 | 1 | 0 | 9

Pour chaque phrase, retrouve la définition du mot qui convient. Ecris le numéro de la définition à la fin de chaque phrase.

Phrases	N°
Au marché, la vendeuse pose les fruits sur le plateau pour les peser.	
Silence sur le plateau ! On commence à tourner le film.	
La vie sur les hauts plateaux du Tibet est difficile à cause du froid et des vents violents.	
Le serveur apporte sur un plateau les boissons commandées par les clients.	

Définitions	
1	n. m. : scène de théâtre, de cinéma.
2	n. m. : étendue de terrain relativement plane, élevée par rapport aux régions environnantes.
3	n. m. : support servant à transporter.
4	n. m. : partie d'une balance.

Exercice 8
Vocabulaire

Complète le tableau avec un mot de la même famille.

Mots	Mots de la même famille
Nourriture
Dent
Timide
Gros
Rapidement

Item 36 1 0 9

Item 37 1 0 9

Item 38 1 0 9

Item 39 1 0 9

Item 40 1 0 9

Exercice 9
Vocabulaire

Complète le tableau avec un mot contraire.

Mots	Contraires
Mort
Discret
Rapidement
Jeune
Jamais

Item 41 1 0 9

Item 42 1 0 9

Item 43 1 0 9

Item 44 1 0 9

Item 45 1 0 9

Exercice 10
Vocabulaire

Ecris dans l'ordre alphabétique les mots suivants :

Item 46 1 0 9

combinaison chantier craie cirage cerise

MATHEMATIQUES**Exercice 11**Production d'Écrit

Item 47 | 1 | 0 | 9

Item 48 | 1 | 0 | 9

Item 49 | 1 | 0 | 9

Item 50 | 1 | 0 | 9

Item 51 | 1 | 0 | 9

Item 52 | 1 | 0 | 9

Petit Gaston

Cette nuit, cinq hérissons sont arrivés dans le jardin. Le père, la mère et leurs trois fils. Ils se dirigent vers les salades qu'ils adorent ; surtout Petit Gaston, le plus gourmand.

« Petit Gaston est si vorace », dit la maman, « qu'un jour, il mangera les étoiles ! »

Aussitôt, Petit Gaston lève le nez. Les étoiles sont sûrement meilleures que les salades. Il n'y a qu'un problème : les attraper ! Comment faire ? Petit Gaston trouve une échelle appuyée au cerisier.

Il ne lui reste qu'à monter. Pourtant, se hisser de barreau en barreau, quel effort pour un hérisson !

Il s'entête, il se fatigue, il est décidé à atteindre son but. Hélas ! Lorsqu'il arrive enfin au sommet, il est bien déçu, car le ciel est encore très loin. Impossible de le toucher !

Consigne :

Dans l'histoire, Petit Gaston veut attraper les étoiles en grimpant sur une échelle. Hélas ! Lorsqu'il arrive enfin au sommet, il est bien déçu, car le ciel est encore très loin ; Impossible de le toucher !

Que va-t-il alors se passer ? Imagine la suite de cette histoire.

Exercice 12Lecture

Item 53	1	0	9
---------	---	---	---

Comment le lièvre devint blanc ?

Plume d'Aigle était un grand chasseur. Armé simplement d'un arc et de flèches, il ramenait toujours du gibier pour nourrir sa femme et ses enfants.

Mais un été, il y eut une terrible sécheresse. Pour ne pas mourir de soif dans la grande prairie, les animaux remontèrent vers le nord. Plume d'Aigle et les autres chasseurs grimpèrent dans leurs canots et les suivirent. Arrivés dans le nord, ils se mirent à chasser. Plume d'Aigle partit sur les traces d'un cerf mais, tout à coup, la neige se mit à tomber.

Bientôt, toute la campagne fut blanche et le pauvre chasseur ne reconnaissait plus rien. Ebloui par la lumière qui se reflétait sur la neige, il marchait au hasard, en se disant : « Je suis perdu, je ne pourrai jamais rejoindre le campement. Mais si je meurs ici dans la neige, qui donnera à manger à mes enfants ? » [...]

Mille ans de contes, tome 1, Milan

Exercice 13Nombres et calcul**Ecris les nombres dictés**a

Item 54 1 0 9

b

Item 55 1 0 9

c

Item 56 1 0 9

d

Item 57 1 0 9

e

Item 58 1 0 9

f

Item 59 1 0 9

g

Item 60 1 0 9

h

Item 61 1 0 9

Exercice 14Nombres et calcul**Problème 1**

Marine a un jeu de 54 cartes. Elle a distribué 5 cartes.
Combien de cartes lui reste-t-il ?

Entoure l'opération qui te permet de trouver la solution.

Item 62 1 0 9

Problème 2

Marc a acheté une toupie à 4 € et un DVD à 34€.
Combien va-t-il payer ?

Entoure l'opération qui te permet de trouver la solution.

Item 63 1 0 9

Problème n°3

Il y a 20 élèves dans la classe de CE1. Clara a distribué 4 feuilles à chacun.
Combien de feuilles a-t-elle distribuées ?


Entoure l'opération qui te permet de trouver la solution.

Item 64 1 0 9

EXERCICE 15 :

Nombres et calculs

Partage les pommes pour qu'il y ait autant de pommes dans chaque panier.



Combien de pommes y a-t-il dans chaque corbeille ?

Ecris ta réponse :

Item 65 | 1 | 0 | 9

Exercice 16

Nombres et calcul

*Dans chaque cadre, écris **un nombre** compris entre les deux nombres proposés.*

399.....409

Item 66 | 1 | 0 | 9

998.....1000

Item 67 | 1 | 0 | 9

779.....789

Item 68 | 1 | 0 | 9

509.....521

Item 69 | 1 | 0 | 9

199.....209

Item 70 | 1 | 0 | 9

Exercice 17

Nombres et calcul

Complète le tableau en écrivant à chaque fois le nombre qui vient juste avant et le nombre qui vient juste après.

Nombre qui vient juste avant	Nombre donné	Nombre qui vient juste après
.....	545
.....	929
.....	999
.....	318

Item 71 | 1 | 0 | 9

Item 72 | 1 | 0 | 9

Item 73 | 1 | 0 | 9

Item 74 | 1 | 0 | 9

Item 75 | 1 | 0 | 9

Item 76 | 1 | 0 | 9

Item 77 | 1 | 0 | 9

Item 78 | 1 | 0 | 9

Exercice 18 :

Nombres et calcul

1) Effectue les additions en ligne sans les poser.

243 + 214 =

Item 79 | 1 | 0 | 9

755 + 43 =

Item 80 | 1 | 0 | 9

56 + 210 =

Item 81 | 1 | 0 | 9

600 + 301 =

Item 82 | 1 | 0 | 9

2) Pose et effectue les opérations.

<p>768 + 141 =</p>	<p>576 + 424 =</p>
---------------------------	---------------------------

Item 83 | 1 | 0 | 9

Item 84 | 1 | 0 | 9

$263 \times 2 =$	$218 \times 3 =$
$128 \times 4 =$	$960 - 430 =$
$878 - 549 =$	$237 - 179 =$

Item 85 1 0 9

Item 86 1 0 9

Item 87 1 0 9

Item 88 1 0 9

Item 89 1 0 9

Item 90 1 0 9

Exercice 19Nombres et calcul**Complète ces multiplications.**

$..... \times 4 = 36$

Item 91 | 1 | 0 | 9

$5 \times = 15$

Item 92 | 1 | 0 | 9

$..... \times 2 = 20$

Item 93 | 1 | 0 | 9

$..... \times 5 = 20$

Item 94 | 1 | 0 | 9

$9 \times = 45$

Item 95 | 1 | 0 | 9

$..... \times 4 = 16$

Item 96 | 1 | 0 | 9

$10 \times = 40$

Item 97 | 1 | 0 | 9

Exercice 20Nombres et calcul**Résous le problème. Utilise le cadre pour effectuer tes calculs.**

Pour organiser un goûter à l'école, la maîtresse a acheté 12 paquets de 5 pains au chocolat.
De combien de pains au chocolat dispose-t-elle ?

Phrase réponse : _____


Item 98 | 1 | 0 | 9

Recherches / calculs

Item 99 | 1 | 0 | 9

Exercice 21
 Grandeurs et mesure

1) À l'aide de ta règle, mesure la longueur de l'épée.



Item 100 | 1 | 0 | 9

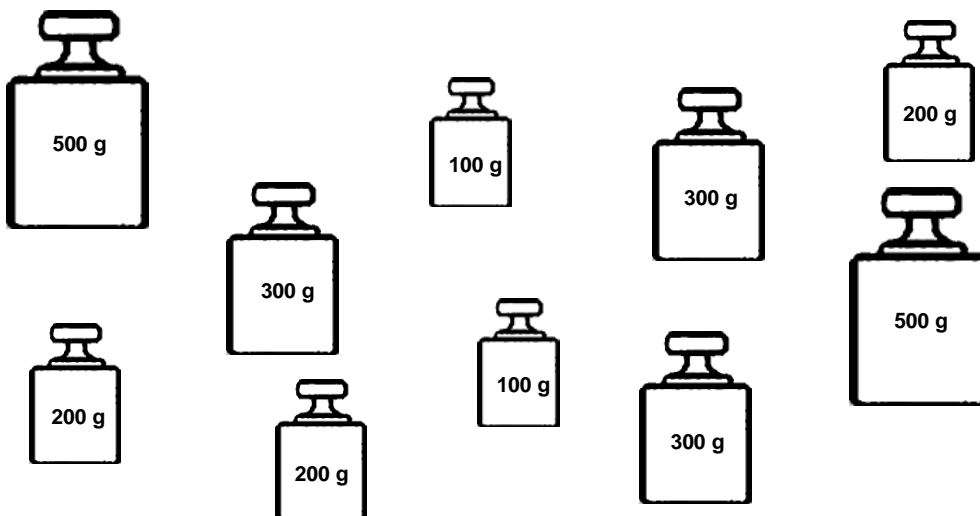
2) Trace un segment de 12 cm en partant du trait vertical.



Item 101 | 1 | 0 | 9

Exercice 22
 Grandeurs et mesure

Maman met dans son panier un sac de 1kg de pommes.
 Quelles sont les masses nécessaires pour obtenir 1kg ? **Entoure-les.**



Item 102 | 1 | 0 | 9

Exercice 23
 Grandeurs et mesure

Relie entre elles les durées identiques.

1 heure

1 quart d'heure

1 demi-heure

3 quarts d'heure

Item 103 | 1 | 0 | 9

Item 104 | 1 | 0 | 9

Item 105 | 1 | 0 | 9

Item 106 | 1 | 0 | 9

15 minutes

30 minutes

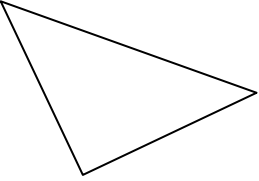
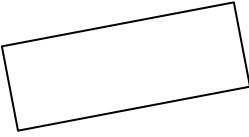

60 minutes

45 minutes

Exercice 24

Géométrie

1°) Complète le tableau.

	Nom de la figure	Nombre de côtés	Nombre d'angles droits




Item 107 1 0 9

Item 108 1 0 9

Item 109 1 0 9

Item 110 1 0 9

Item 111 1 0 9

Item 112 1 0 9

Item 113 1 0 9

Item 114 1 0 9

Item 115 1 0 9

2°) A l'aide de ton équerre et de ta règle, trace un carré de 5 cm de côté.

Item 116 1 0 9