

FRANÇAIS

Nom : _____

Prénom : _____

Exercice 1 Lecture**Le journal de Jean la Bourrasque**

Jean, un petit garçon de neuf ans, est surnommé la Bourrasque à cause des nombreuses catastrophes qu'il provoque autour de lui. Sa mère lui offre un journal dans lequel il peut écrire tout ce qu'il pense et tout ce qu'il lui arrive. Le 1^{er} décembre, il décide d'aller à la pêche...

Après la classe, je suis allé m'acheter une nouvelle canne à pêche et des hameçons et je me suis dirigé vers le fleuve. [...] A la tombée de la nuit, j'ai attrapé une anguille grosse comme un crocodile ; Qu'est-ce que j'allais pouvoir en faire ?

Je l'ai ramenée à la maison pour qu'on puisse la manger demain, mais en attendant pour se distraire ce soir, je l'ai posée sur le piano dans le salon. Après le repas [...], ma sœur a commencé à jouer et à chanter son air préféré qui commençait ainsi : « Personne ne nous voit, personne ne nous entend. »... Tout à coup elle a poussé un hurlement : « Une vipère, Ah !...Oh !...ah ! ...hi !... »

Quels cris ! Le sifflement de la locomotive à côté, ce n'est rien ; j'ai aussitôt bondi dans le salon pour voir ce qui se passait. Caterina, elle aussi, est arrivée. Nous avons vu Virginia qui se tordait avec une agitation violente sur le canapé comme un chien enragé.

J'ai dit à Caterina : « Je parie qu'il y a quelque chose sur le piano. »

Caterina s'est approchée du piano pour voir puis d'un bond, elle s'est retrouvée près de la porte d'entrée en hurlant : « Au secours ! »

Les voisins ont commencé à entrer dans la maison. Ils ont à peine jeté un coup d'œil vers le piano et aussitôt, ils ont hurlé comme des sourds.

- « Mais ce n'est qu'une anguille » ai-je dit, fatigué par tout ce vacarme.
- « Quoi ?... Que dis-tu ?... » ont-ils demandé en chœur.
- « Ce n'est qu'une pauvre anguille inoffensive ! » ai-je répété, en me mettant à rire.

Réponds aux questions suivantes :

1. D'après toi, où peut-on lire l'histoire racontée par Jean la Bourrasque ?

Item1	1	0	9
-------	---	---	---

2. Qui est Virginia ?

Item2	1	0	9
-------	---	---	---

3. Pourquoi pense t-on qu'il s'agit d'une vipère ?

Item3	1	0	9
-------	---	---	---

**4. Jean la Bourrasque est-il content ou désolé de ce qui s'est passé ?
Recopie la phrase qui t'a permis de répondre.**

Item4	1	0	9
-------	---	---	---

Exercice 2 Grammaire

Pour chaque phrase, mets une croix si on a souligné un pronom personnel (PP), un verbe (V), un adjectif (Adj), un nom (N) ou un déterminant (D).

	N	PP	V	Adj	D	
Il mit la feuille dans <u>sa</u> poche.						Item5 1 0 9
Le pêcheur <u>épuisé</u> rentra au port.						Item6 1 0 9
Le pêcheur posa la <u>feuille</u> sur le plateau.						Item7 1 0 9
Mon pauvre ami, fit- <u>il</u> , cette feuille est si légère.						Item8 1 0 9
Lorsque le roi le <u>vit</u> arriver avec sa prise, il se mit à rire.						Item9 1 0 9

Exercice 3 Grammaire

Dans chaque phrase, souligne l'adverbe.

Nous avons trouvé beaucoup de champignons dans cette forêt.

Item10 1 0 9

Ma sœur ne voudra jamais partir en vacances en Alaska.

Item11 1 0 9

La fusée Ariane a parfaitement rempli sa mission, elle est en orbite.

Item12 1 0 9

En Afrique, on voit souvent des crocodiles dormir au bord des rivières.

Item13 1 0 9

Je me suis agrippé solidement à ma mère en voyant le chien du voisin.

Item14 1 0 9

Exercice 4 Grammaire

Dans chaque phrase, encadre le groupe verbal et souligne le groupe sujet.

Nous avons trouvé beaucoup de champignons dans cette forêt.

Item15 1 0 9
Item16 1 0 9

Ma grande sœur ne voudra jamais partir en vacances en Alaska.

Item17 1 0 9
Item18 1 0 9

En voyant le chien du voisin, je me suis agrippé solidement à ma mère.

Item19 1 0 9
Item20 1 0 9

La fusée Ariane a parfaitement rempli sa mission, elle est en orbite.

Item21 1 0 9
Item22 1 0 9

Exercice 5 Grammaire

Dans chaque phrase, souligne et indique les compléments d'objet direct (COD) et les compléments circonstanciels (CC)

Exemple : Le petit Arthur mange sa soupe tous les soirs.
COD CC

En Afrique, on voit de nombreux crocodiles au bord des rivières.

Item23 1 0 9
Item24 1 0 9
Item25 1 0 9

A la maison, on a une belle télévision.

Item26 1 0 9
Item27 1 0 9

A quatre ans, Matilda lisait couramment des histoires très intéressantes.

Item28 1 0 9
Item29 1 0 9
Item30 1 0 9

Exercice 6 Conjugaison

Ecris au présent de l'indicatif le début du texte « Le pêcheur de feuilles »

Un pauvre pêcheur malchanceux, qui **n'arrivait** pas à nourrir sa famille, se **lamentait**. Le roi et la reine qui **passaient** par là **l'entendirent** et, pour l'aider, lui **proposèrent** d'échanger tout ce qu'il **pêchait** contre des pièces d'or...

.....

.....

.....

Item31	1	0	9
Item32	1	0	9
Item33	1	0	9
Item34	1	0	9
Item35	1	0	9
Item36	1	0	9

Exercice 7 Conjugaison

Ecris l'infinitif du verbe souligné.

Il prenait le frais sur le pas de la porte. (.....)

Item37	1	0	9
--------	---	---	---

Il a eu de jolis cadeaux. (.....)

Item38	1	0	9
--------	---	---	---

Nous voyons arriver les beaux jours. (.....)

Item39	1	0	9
--------	---	---	---

Vous faites des progrès certains. (.....)

Item40	1	0	9
--------	---	---	---

Il terminait son travail en chantant. (.....)

Item41	1	0	9
--------	---	---	---

Il sera au rendez-vous demain. (.....)

Item42	1	0	9
--------	---	---	---

Nous irons au cinéma dimanche. (.....)

Item43	1	0	9
--------	---	---	---

Exercice 8 Vocabulaire

Complète le tableau avec un mot de la même famille.

Mots	Mots de la même famille
Cheveu
Pauvre
Nourrir

Item44	1	0	9
--------	---	---	---

Item45	1	0	9
--------	---	---	---

Item46	1	0	9
--------	---	---	---

Exercice 9 Vocabulaire

Dans la liste suivante, trouve un synonyme de chacun des mots soulignés et écris-le entre les parenthèses.

adorer - aussitôt - ventre - retirer - venir- vite

Le requin plongeait et disparut immédiatement. (_____)

Item47 | 1 | 0 | 9

Le garçon s'en alla aussi rapidement qu'il était venu. (_____)

Item48 | 1 | 0 | 9

Oui, nous aimons vraiment la cuisine française. (_____)

Item49 | 1 | 0 | 9

Nous arrivons directement de la planète Mars. (_____)

Item50 | 1 | 0 | 9

Il enlève son imperméable trempé par la pluie. (_____)

Item51 | 1 | 0 | 9

Exercice 10 Orthographe

Écris la phrase dictée.

Item52 | 1 | 0 | 9

Item53 | 1 | 0 | 9

Item54 | 1 | 0 | 9

Item55 | 1 | 0 | 9

Item56 | 1 | 0 | 9

Item57 | 1 | 0 | 9

Item58 | 1 | 0 | 9

Exercice 11 Production d’écrit

En rentrant au port, un pêcheur ramenait une barque remplie de poissons. Il s’imaginait déjà tout ce qu’il pourrait offrir à toute sa famille. Malheureusement son rêve se transforma en cauchemar.

Imagine la suite de cette histoire.

Exercice 12 Lecture

Monsieur et Madame Cassard habitent la ferme à côté de la nôtre. Les Cassard ont deux enfants, deux garçons. Ils s'appellent Bernard et Richard. Quelquefois, je vais chez eux pour jouer. Je suis une fille et j'ai huit ans. Bernard aussi a huit ans. Richard a trois ans de plus. Il a dix ans. Quoi ? Ah non, c'est vrai. Il a onze ans.

La semaine dernière, il est arrivé quelque chose de très drôle à la famille Cassard. Je vais essayer de vous le raconter de mon mieux. En ce temps-là, Monsieur Cassard et ses deux garçons aimaient par-dessus tout aller à la chasse.

Un samedi matin, je vis Bernard et Richard sortir des bois avec leur père. Ils ramenaient un adorable petit daim. Ce fut le bouquet !

Je vis rouge.

Et sans réfléchir, je fis quelque chose que j'avais décidé de ne plus jamais faire.

JE POINTAI LE DOIGT MAGIQUE SUR EUX !

Oh ! là, là ! Même Madame Cassard, qui n'était pas là, fut ensorcelée. J'avais pointé le doigt magique sur toute la famille Cassard...

Item65	1	0	9
--------	---	---	---

Item66	1	0	9
--------	---	---	---

Item67	1	0	9
--------	---	---	---

Item68	1	0	9
--------	---	---	---

MATHEMATIQUES

Exercice 13 : Nombres et calcul

Ecris tes réponses dans les cases.

a)
 Item69 1 0 9

b)
 Item70 1 0 9

c)
 Item71 1 0 9

d)
 Item72 1 0 9

e)
 Item73 1 0 9

f)
 Item74 1 0 9

Exercice 14 : Nombres et calcul

Complète le tableau suivant.

Quel est le double de :		Quelle est la moitié de :		Quel est le quart de :		Quel est le triple de :	
45	180	24	22
125	230	80	15

Item75 1 0 9

Item77 1 0 9

Item79 1 0 9

Item81 1 0 9

Item76 1 0 9

Item78 1 0 9

Item80 1 0 9

Item82 1 0 9

Exercice 15 : Relie entre elles les opérations qui donnent les mêmes résultats.

30 - 10

100 : 4

50 + 10

10 x 5

Item83 1 0 9

Item84 1 0 9

Item85 1 0 9

Item86 1 0 9

100 : 2

5 x 5

4 x 5

2 x 30

Exercice 16 : Pose et effectue les opérations suivantes :

$73 + 224 =$	
<i>Item87</i> 1 0 9	

$679 + 108 =$	
<i>Item88</i> 1 0 9	

$475 - 234$	
<i>Item89</i> 1 0 9	

$872 - 533 =$	
<i>Item90</i> 1 0 9	

$123 \times 4 =$	
<i>Item91</i> 1 0 9	

$246 : 2 =$	
<i>Item92</i> 1 0 9	

Exercice 17 : Ecris les nombres dictés dans les cases suivantes.

a)

Item93 | 1 | 0 | 9

b)

Item94 | 1 | 0 | 9

c)

Item95 | 1 | 0 | 9

Nom : _____

Prénom : _____

Exercice 18 : Ecris les nombres suivants en lettres.

399

Item96 | 1 | 0 | 9

59 163

Item97 | 1 | 0 | 9

518 012

Item98 | 1 | 0 | 9

Exercice 19 : Mets le signe qui convient : < ou >.

79 100 79 099

Item99 | 1 | 0 | 9

56 798 56 897

Item100 | 1 | 0 | 9

9 876 10 003

Item101 | 1 | 0 | 9

Exercice 20 : Range les nombres suivants dans l'ordre croissant.

21 989

606

121 089

21 099

Item102 | 1 | 0 | 9

Exercice 21 : Écris le nombre qui précède et le nombre qui suit.

..... < 204 810 <

Item103 | 1 | 0 | 9

..... < 24 399 <

Item104 | 1 | 0 | 9

Exercice 22 :

Pour voir une pièce de théâtre, le père de Christophe achète au guichet un billet adulte qui coûte 35 euros et une place enfant. L'employé du guichet lui demande 55 euros.

Combien coûte la place enfant ?

Tu peux utiliser le cadre pour faire tes recherches.

La place enfant coûte Euros.

Item105 | 1 | 0 | 9

Item106 | 1 | 0 | 9

Exercice 23 :

complète les phrases en utilisant les unités qui conviennent :

mètres, centimètres, grammes, kilogrammes, heures, minutes, euros, centimes.

La montagne Pelée mesure 1397.....

Item107 | 1 | 0 | 9

Un bâton de glace (un floup) coûte 50.....

Item108 | 1 | 0 | 9


Le journal télévisé a duré 30

Item109 | 1 | 0 | 9

Une plaquette de beurre pèse 250

Item110 | 1 | 0 | 9

Exercice 24 : à l'aide de ton équerre et de ta règle, termine de tracer le carré pour qu'il fasse 5 cm de côté.



Item111 | 1 | 0 | 9

Item112 | 1 | 0 | 9

Exercice 25 : voici le contenu du porte-monnaie de Séverine.




Quelle somme a-t-elle dans son porte-monnaie ?

Elle a


Item113 1 0 9

Exercice 26 : dessine les aiguilles.




12 h 45

Item114 1 0 9



midi et demi

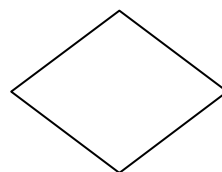
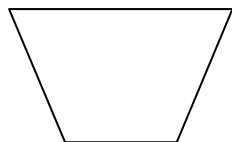
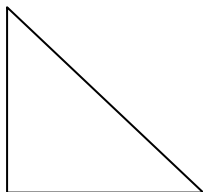
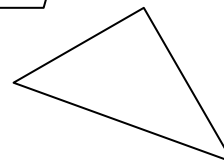
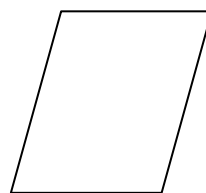
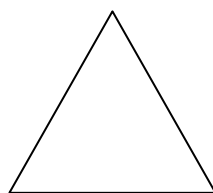
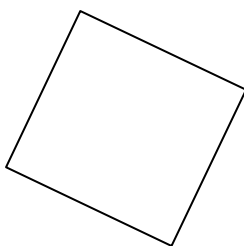
Item115 1 0 9



9 heures et quart

Item116 1 0 9

Exercice 27 : entoure les figures qui possèdent un ou plusieurs angles droits. Utilise ton équerre.

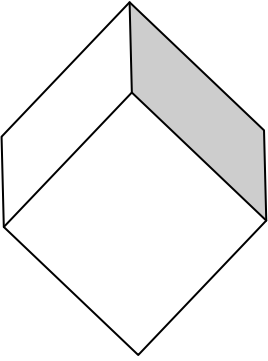



Item117 1 0 9

Nom : _____

Prénom : _____

Exercice 28 : observe les solides puis complète le tableau

	
Nom :	Nom :
Nombre d'arêtes :	
Nombre de faces :	
Nombre de sommets :	

Item118 | 1 | 0 | 9

Item119 | 1 | 0 | 9

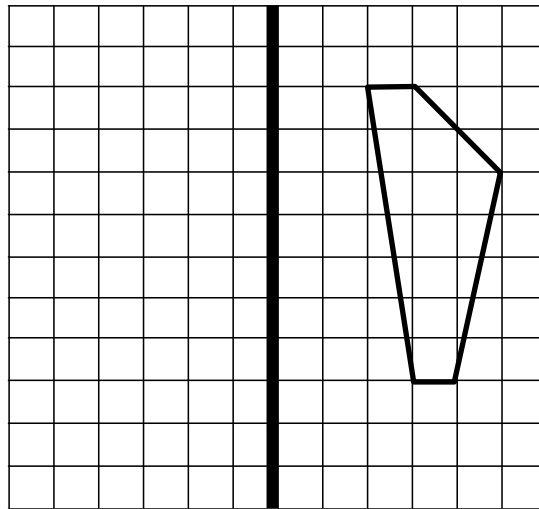
Item120 | 1 | 0 | 9

Item121 | 1 | 0 | 9

Item122 | 1 | 0 | 9

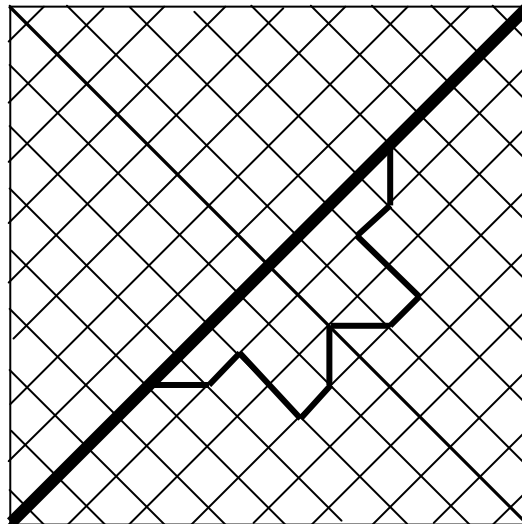
Exercice 29 : complete les 3 figures symétriquement par rapport à l'axe en gras

A)



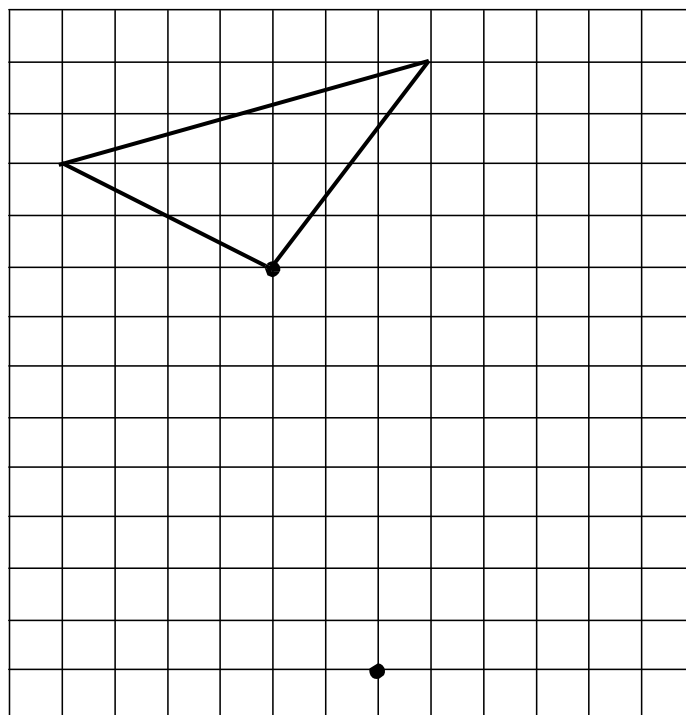
Item123 | 1 | 0 | 9

B)



Item124 | 1 | 0 | 9

Exercice 30 : reproduis ce triangle à partir du point.



Item125 | 1 | 0 | 9

Exercice 31

Une chasse au trésor est organisée à l'école « les Petits Galopins ». Par équipe de 4, les élèves doivent suivre un parcours codé et y ramasser des objets : des quilles, des balles, des foulards et des plots. Chaque objet a une valeur différente :

- **1 quille = 10 points**
- **1 balle = 5 points**
- **1 foulard = 2 points**
- **1 plot = 1 point**

Pour gagner, il faut cumuler le plus de points. Place les données dans le tableau puis calcule les totaux.

L'équipe Alaska a trouvé 3 quilles, 2 balles, 3 foulards et 5 plots.

L'équipe Antilles a trouvé 4 foulards, 4 quilles et 5 plots.

Organise le classement des équipes.

Equipes	Nombre de quilles	Nombre de balles	Nombre de foulards	Nombre de plots	Total des points
Alaska					
Antilles					

Item126	1	0	9
---------	---	---	---

Item127	1	0	9
---------	---	---	---

Item128	1	0	9
---------	---	---	---

Item129	1	0	9
---------	---	---	---

Quel est le nom de l'équipe gagnante ? _____

Item130	1	0	9
---------	---	---	---