

FRANÇAIS

Prénom : _____

Nom : _____

Exercice n° 1 : Écris les lettres que je vais te dicter.

1 -----

2 -----

3 -----

4 -----

5 -----

6 -----

7 -----

8 -----

9 -----

10 -----

11 -----

12 -----

13 -----

14 -----

15 -----

16 -----

Item 1 1 0 9

Exercice n° 2 : Entoure la lettre demandée.

1 J E U D I **Item 2** 1 0 9

2 G A L E T T E **Item 3** 1 0 9

3 T R O I S **Item 4** 1 0 9

4 C A R N A V A L **Item 5** 1 0 9

5 A V I O N **Item 6** 1 0 9

Exercice n° 3 : Entoure le mot demandé.

1 *Le loup et les sept biquets*

Item 7 1 0 9

2 *Bon appétit Monsieur Renard*

Item 8 1 0 9

3 *Le loup est revenu*

Item 9 1 0 9

4 *Le petit chaperon rouge*

Item 10 1 0 9

5 *Les trois petits cochons*

Item 11 1 0 9

Exercice n° 4 : Lis les mots que je vais te montrer.

Item 12 1 0 9

mardi sur papa jeudi rouge

samedi de voici la dans

lundi avec une mercredi est

dimanche maman et vendredi

Exercice n° 5 : Colorie autant de cases que de syllabes.

main

--	--	--	--

Item 13 1 0 9

poulet

--	--	--	--

Item 14 1 0 9

ananas

--	--	--	--

Item 15 1 0 9

sapin

--	--	--	--

Item 16 1 0 9

cheminée

--	--	--	--

Item 17 1 0 9

pantalon

--	--	--	--

Item 18 1 0 9

Exercice n ° 6 : Nomme-moi l'objet que je te montre.



Item 19 1 0 9



Item 20 1 0 9



Item 21 1 0 9



Item 22 1 1 0 9



Item 23 1 0 9



Item 24 1 0 9



Item 25 1 0 9



Item 26 1 0 9



Item 27 1 0 9



Item 28 1 0 9



Item 29 1 0 9



Item 30 1 0 9

1 _____ Item 31 1 0 9


2 _____ Item 32 1 0 9


3 _____ Item 33 1 0 9


4 _____ Item 34 1 0 9


5 _____ Item 35 1 0 9


Exercice n ° 8 : Ecris les mots en écriture cursive (en attaché) comme je l'ai fait au tableau.


 _____ Item 36 1 0 9

 _____ Item 37 1 0 9

 _____ Item 38 1 0 9

 _____ Item 39 1 0 9

 _____ Item 40 1 0 9

 _____ Item 41 1 0 9

Exercice n ° 9 : Ecoute attentivement l'histoire, puis raconte-la moi.

Item 42 1 0 9

Item 43 1 0 9

MATHEMATIQUES

Exercice n° 10 Compte le plus loin possible

Item 44 1 0 9

Exercice n° 11 Tu comptes à partir de 6 et tu t'arrêtes à 28

Item 45 1 0 9

Exercice n° 12 Montre-moi les nombres que je vais te dire

Item 46 1 0 9



Exercice n° 13 Dis-moi les nombres que je vais te montrer

Item 47 1 0 9


Exercice n° 14 Complète les bandes numériques.

Item 48 1 0 9


Item 49 1 0 9




Exercice n° 15 : Compte et écris le nombre de points dans chaque étiquette



Item 50 1 0 9

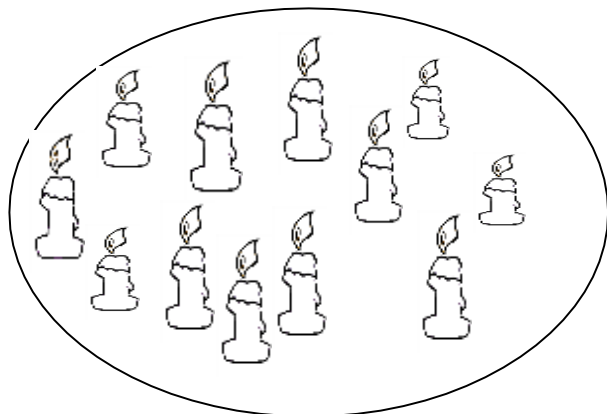


Item 51 1 0 9




Item 52 1 0 9

Exercice n° 16 : Entoure le nombre qui correspond à la quantité d'objets



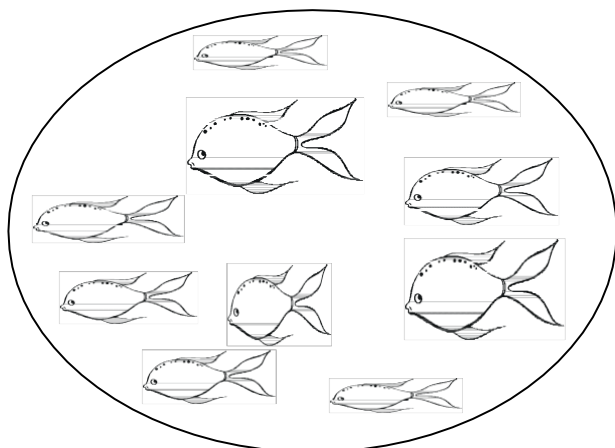
12 11 9

Item 53 1 0 9



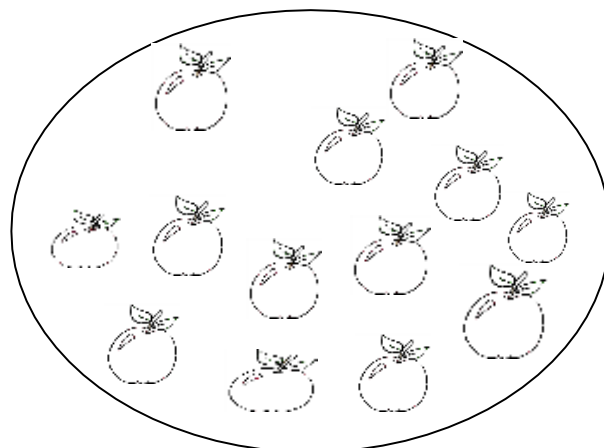
7 9 8

Item 54 1 0 9



10 14 12

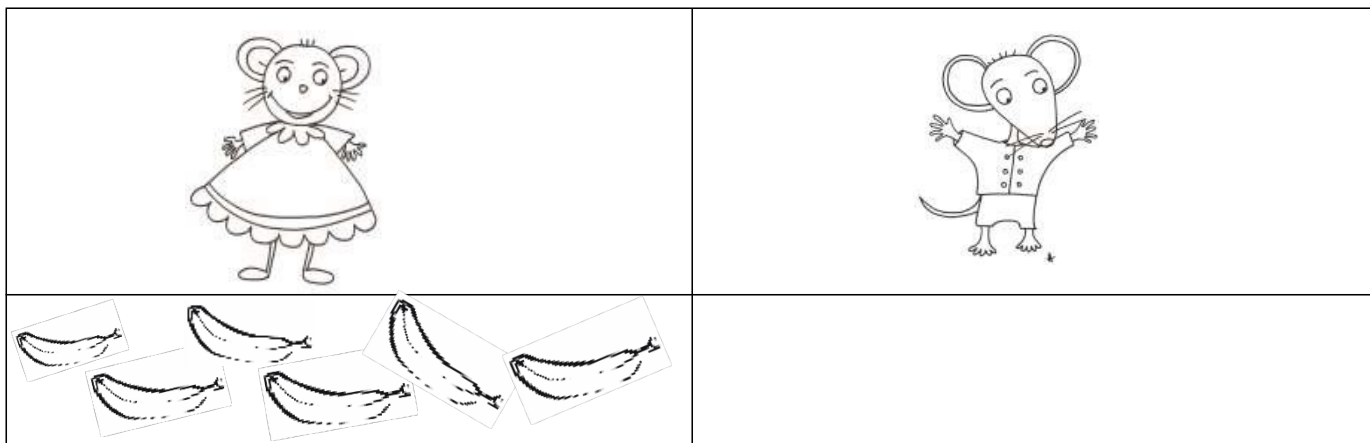
Item 55 1 0 9



14 17 13



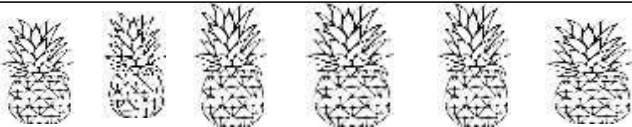
Item 56 1 0 9

Exercice n° 17 : Filvite a autant de bananes que sa cousine Atipa. Dessine les bananes de Filvite.






Item 57 1 0 9

Exercice n° 18 : Filvite a moins d'ananas que sa cousine Atipa. Dessine les ananas de Filvite.

Item 58 1 0 9

Exercice n° 19 : Filvite a plus de melons que sa cousine Atipa. Dessine les melons de Filvite.

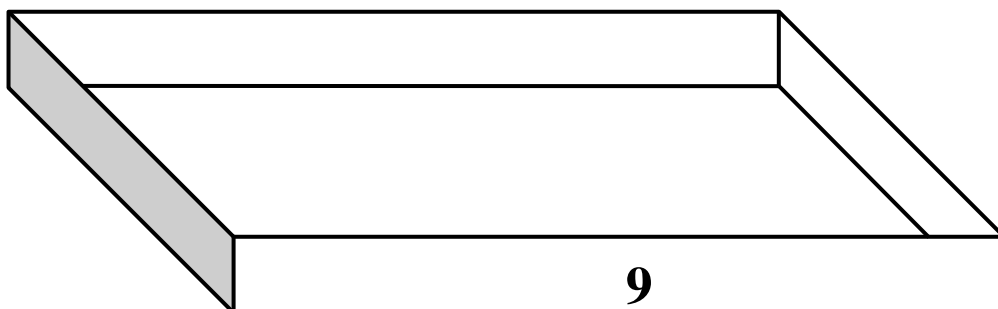
	
	

Item 59 1 0 9

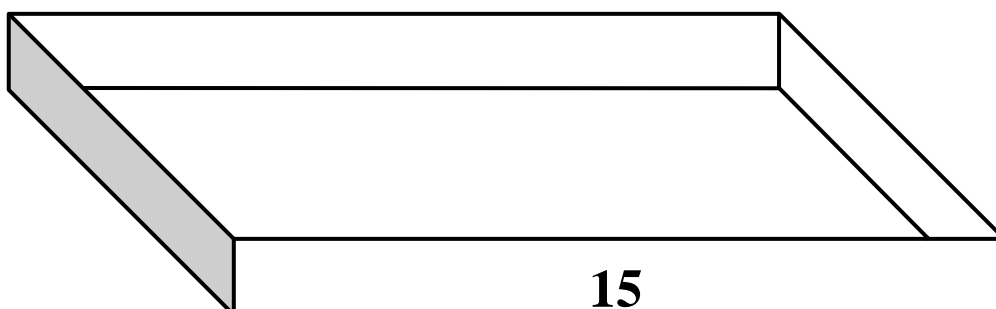
Exercice n° 20 : Dessine le nombre de billes indiqué par l'étiquette.



Item 60 1 0 9



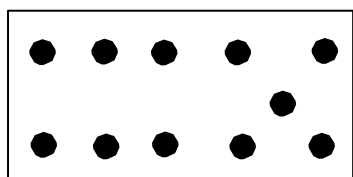
Item 61 1 0 9




Item 62 1 0 9

Exercice n°21 : Relie les nombres aux dominos.

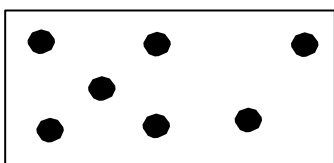
Item 63 1 0 9



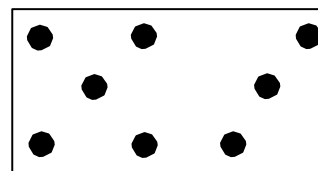
1



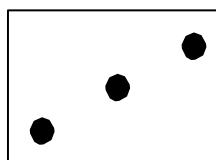
2



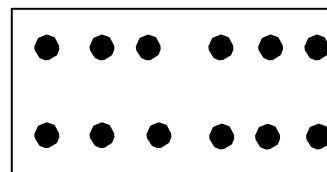
3



4




5

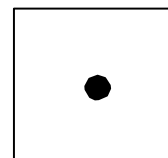


6

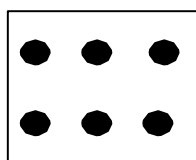
7



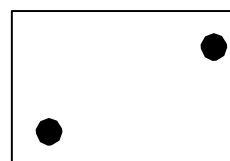
8




9



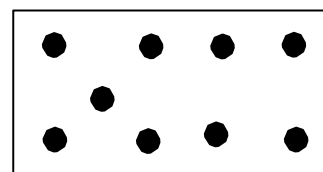
10



11




12



Exercice n°22 : Résous le problème.


6



Exercice n° 23 : Colorie en jaune la voiture qui va passer la ligne d'arrivée.

Colorie en bleu l'avant dernière voiture.

Colorie en vert la voiture située entre la voiture n° 5 et la voiture n° 1.



Item 67	1	0	9
---------	---	---	---

Item 68	1	0	9
---------	---	---	---

Item 69	1	0	9
---------	---	---	---