
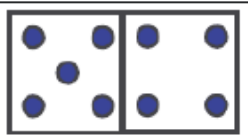
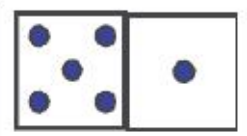
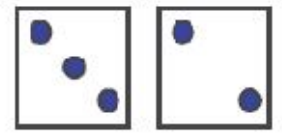
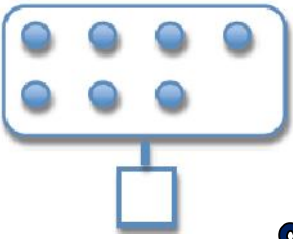


Tu as 40 min pour résoudre un maximum d'épreuves parmi les 9 proposées.

<p>Colorie 7 doigts.</p>  <p>1</p>	<p>Complète :</p>  $_ \ + \ _ \ = \ _$ <p>2</p>	<p>Complète les frises :</p> <table border="1" data-bbox="772 231 1075 279"> <tr> <td></td> <td>5</td> <td></td> <td>7</td> <td></td> </tr> </table> <table border="1" data-bbox="772 327 1075 375"> <tr> <td></td> <td></td> <td>8</td> <td></td> <td>10</td> </tr> </table> <table border="1" data-bbox="772 422 1075 470"> <tr> <td>2</td> <td></td> <td></td> <td>5</td> <td></td> </tr> </table> <p>3</p>		5		7				8		10	2			5	
	5		7														
		8		10													
2			5														
<p>Complète :</p>  $5 + 1 = _$ <p>4</p>	<p>Dans ma collection, j'ai déjà 10 timbres. J'en donne 5 à Roberto. Combien ai-je maintenant de timbres en tout ?</p> <p>5</p>	<p>Complète :</p>  $_ \ + \ _ \ = \ _$ <p>6</p>															
<p>Emilie a 9 euros. Elle donne 3 euros à sa grande sœur. Combien d'argent Emilie a-t-elle maintenant ?</p> <p>7</p>	<p>Indique le nombre de points.</p>  <p>8</p>	<p>Dans mon panier, il y a 5kg de pommes. Rémi m'offre 3kg de pommes. Quelle quantité de pommes y a-t-il maintenant dans mon panier ?</p> <p>9</p>															

DATE	NOM	CLASSE	SCORE GENERAL	
		CP	/ 9	%

CARTES	REPONSES	V
1		
2		
3		
4		
5		
6		
7		
8		
9		

	Numération	Calcul	Résolution problème
Pourcentage de réussite	%	%	%