

Calcul mental

--	--	--	--	--	--	--	--

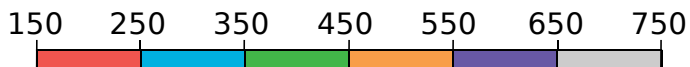
1 Complète avec le bon nombre.

125 127 328 330
 499 501 864 866

2 Complète avec des nombres au choix.

850 860 870

3 Colorie chaque case du tableau de la même couleur que la partie de la frise dans laquelle le nombre se trouve.



473	680	257	631	614	368
305	196	455	400	231	599
700	420	240	713	342	549

6 Place les nombres au bon endroit.

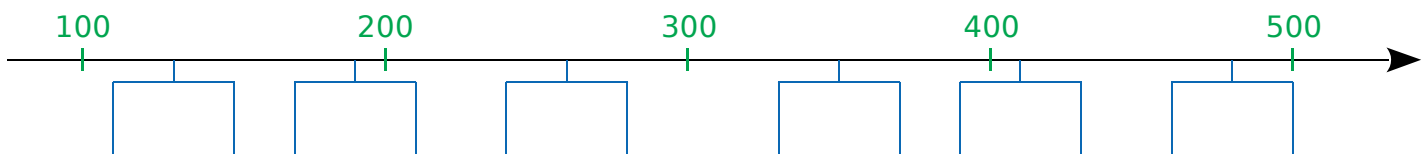
a. 899 - 931 - 865 - 904 - 890 - 957

860 880 900 920 940 960

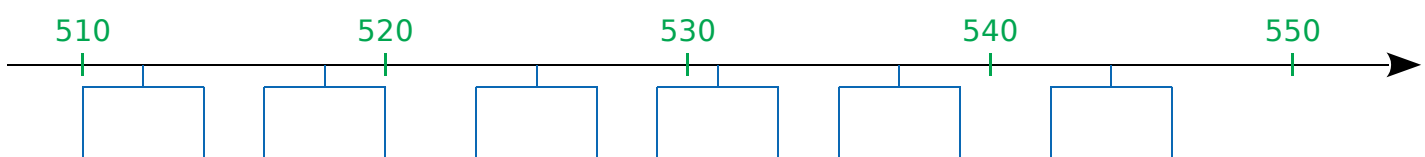
b. 288 - 239 - 280 - 312 - 263 - 300

235 249 278 290 305 322

c. 410 - 130 - 350 - 260 - 480 - 190



d. 525 - 544 - 512 - 531 - 518 - 537



4 Donne tous les nombres entiers...

a. compris entre 400 et 405 ;

b. compris entre 253 et 258 ;

c. compris entre 698 et 702.

5 Donne toutes les dizaines...

a. comprises entre 300 et 350 ;

b. comprises entre 794 et 834.

