

Calcul

CE2



...../...../.....

PRÉNOM :

<https://laclassebleue.fr/>

① Effectue ces additions.

		3	1	5				4	5	2				2	3	5				7	4	8				5	0	4				8	4	0			
		+	2	6	4			+	3	7	8			+	1	4	7			+		5	6			+	2	8	9			+	3	5	7		
_____		_____		_____		_____		_____		_____		_____		_____		_____		_____		_____		_____		_____		_____		_____		_____		_____		_____		_____	

② Pose et effectue ces additions.

524 + 263	292 + 347	814 + 108	157 + 84	627 + 256	417 + 392

③ Résous ce problème.

Lors du Tour de France 2019, les cyclistes ont effectué le 17 juillet une étape de 167 km et le 18 juillet une étape de 202 km. Quelle distance totale ont-ils parcourue en deux jours ?

Calcul

CE2



...../...../.....

PRÉNOM :

<https://laclassebleue.fr/>

① Effectue ces additions.

		5	9	4	
		+	1	7	2
<hr/>					

		3	0	7	
		+	2	4	6
<hr/>					

		7	4	8	
		+	1	6	8
<hr/>					

		4	1	4	
		+	3	9	3
<hr/>					

		6	7	5	
		+	2	4	9
<hr/>					

		9	4	5	
		+	4	0	8
<hr/>					

② Pose et effectue ces additions.

637 + 156

24 + 849

351 + 246

523 + 428

159 + 744

248 + 448

③ Résous ce problème.

Un centre de loisirs achète un toboggan coûtant 249 € et une balançoire au prix de 378 €. Quel sera le montant total de la dépense ?


Calcul

CE2



...../...../.....

PRÉNOM :



<https://laclassebleue.fr/>

① Effectue ces additions.

		4	8	5	
		+	3	2	7
<hr/>					

		6	3	3	
		+	2	1	8
<hr/>					

		2	0	2	
		+	5	3	9
<hr/>					

		3	9	6	
		+	4	2	7
<hr/>					

		8	1	8	
		+	1	0	4
<hr/>					

		7	6	9	
		+	3	4	5
<hr/>					

② Pose et effectue ces additions.

548 + 73

707 + 26

39 + 618

244 + 716

625 + 337

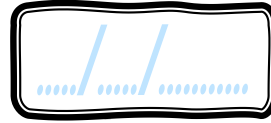
406 + 189

③ Résous ce problème.


Une salle de cinéma compte 376 places assises. Après son agrandissement, il y aura 125 places de plus. Combien de sièges aura-t-elle ?

Calcul

CE2



PRÉNOM :



<https://laclassebleue.fr/>

① Effectue ces additions.

		2	7	3	
		+	1	8	4
		<hr/>			

			5	4	8	
			+		9	
					3	
			<hr/>			

			6	1	7	
			+	3	5	
					9	
			<hr/>			

			8	2	8	
			+	1	3	
					6	
			<hr/>			

			3	4	0	
			+	4	9	
					5	
			<hr/>			

			6	8	2	
			+	5	7	
					3	
			<hr/>			

② Pose et effectue ces additions.

427 + 255

630 + 417

82 + 443

276 + 681

945 + 517


704 + 896

③ Résous ce problème.

Depuis que le vendeur lui a appliqué une réduction de 49 €, la console de jeux que voulait Tomas coûte 295 €. Combien coûtait la console de jeux avant la réduction ?

Calcul

CE2



PRÉNOM :
.....

<https://laclassobleue.fr/>

① Effectue ces additions.

		3	6	4
		+	4	7
		<hr/>		

		8	2	5
		+	6	9
		<hr/>		

		4	1	6
		+	3	7
		<hr/>		

		9	0	5
		+	2	9
		<hr/>		

		4	9	2
		+	3	4
		<hr/>		

		7	0	5
		+	4	4
		<hr/>		

② Pose et effectue ces additions.

215 + 87

836 + 354

507 + 268

155 + 347

56 + 714 + 8


342 + 95 + 7

③ Résous ce problème.

Dans une bibliothèque, on compte 286 romans, 95 livres de science-fiction et 349 bandes dessinées. Quel est le nombre total de livres dans la bibliothèque ?

Calcul

CE2



...../...../.....
PRÉNOM :



<https://laclassebleue.fr/>

① Effectue ces additions.

		7	4	6	
		+	5	1	9
<hr/>					

		6	9	3	
		+	1	2	5
<hr/>					

		4	7	0	
		+	2	8	7
<hr/>					

		2	5	4	
		+	1	9	3
<hr/>					

		5	2	7	
		+		9	4
<hr/>					
		+		6	
<hr/>					

		8	4	4	
		+	6	5	6
<hr/>					
		+	3	6	2
<hr/>					

② Pose et effectue ces additions.

558 + 237

462 + 85 + 9

811 + 596

937 + 76

4 + 28 + 647

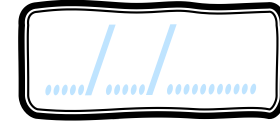
2 356 + 839

③ Résous ce problème.

Elodie a récolté 356 g de fraises, 549 g de cerises et 687 g de framboises. Quelle masse de fruits Elodie a-t-elle récoltée ?

Calcul

CE2



PRÉNOM :



<https://laclassobleue.fr/>

① Effectue ces additions.

		6	5	0	
		+	4	6	8
<hr/>					

		3	1	7	
		+	2	9	3
<hr/>					

		8	3	6	
		+	7	3	5
<hr/>					

		5	8	1	
		+	1	6	2
<hr/>					

		7	4	3	
		+	2	8	2
		+			6
<hr/>					

		4	8	0	2	
		+	3	9	5	3
		+		2	7	8
<hr/>						

② Pose et effectue ces additions.

45 + 967

254 + 218

447 + 6 + 75

642 + 355

175 + 528

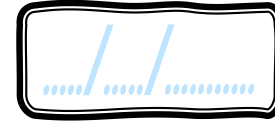
9 493 + 775

③ Résous ce problème.


En France, le Sénat est composé de 348 élus. L'Assemblée Nationale compte 234 élus de plus que le Sénat. Combien y-a-t-il d'élus à l'Assemblée Nationale ?

Calcul

CE2



PRÉNOM :



<https://laclassobleue.fr/>

① Effectue ces additions.

		9	6	4	
		+	5	1	2
<hr/>					

		4	5	3	
		+	2	7	8
<hr/>					

		6	7	0	
		+	2	8	6
<hr/>					

		3	4	4	
		+	7	6	3
<hr/>					

			5	5	6
		+		3	2
<hr/>					
		+			4
<hr/>					

		8	4	7	2
		+	1	9	3
<hr/>					
		+		7	5
<hr/>					

② Pose et effectue ces additions.

420 + 93

571 + 309

34 + 657

253 + 76 + 8

329 + 282

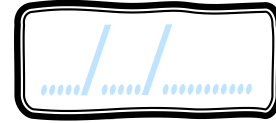

4 018 + 67 + 8

③ Résous ce problème.

Dans un parking, il y a 187 voitures garées au 1^{er} niveau, 254 au 2nd niveau et 69 au 3^{ème} niveau.
Combien y-a-t-il de voitures stationnées dans ce parking ?

Calcul

CE2



PRÉNOM :

<https://laclassebleue.fr/>

① Effectue ces additions.

		3	2	9	
		+	7	5	8
<hr/>					

			4	1	6	
			+	2	9	3
<hr/>						

			7	0	5	
			+		9	2
<hr/>						

			3	8	6	
			+	2	7	9
<hr/>						

			9	5	4	
			+	5	9	7
<hr/>						

			5	2	1	8	
			+	4	0	2	2
<hr/>							

② Pose et effectue ces additions.

146 + 254

680 + 443

45 + 827 + 9

227 + 625

597 + 354

6 734 + 84 + 7

③ Résous ce problème.

Le Moyen Âge a débuté en 476 et a pris fin 1 016 ans plus tard quand Christophe Colomb a découvert l'Amérique. En quelle année le Moyen Âge s'est-il terminé ?