

Les fractions

Lire et nommer des fractions

1 * Écris ces fractions en chiffres.


- | | |
|---------------------|--------------------|
| a. un tiers | e. un demi |
| b. trois cinquièmes | f. deux quarts |
| c. quatre dixièmes | g. six huitièmes |
| d. deux tiers | h. trois septièmes |

2 * Écris ces fractions en lettres.

- | | | |
|-------------------|------------------|-------------------|
| a. $\frac{3}{10}$ | d. $\frac{5}{4}$ | g. $\frac{3}{2}$ |
| b. $\frac{2}{3}$ | e. $\frac{7}{3}$ | h. $\frac{9}{10}$ |
| c. $\frac{5}{2}$ | f. $\frac{3}{4}$ | i. $\frac{4}{3}$ |

3 * **PROBLÈME** Voici les catégories de livres que l'on trouve dans la bibliothèque d'Alexia.


Aide-toi d'un schéma.




Romans $\frac{6}{10}$ BD Documentaires $\frac{2}{10}$


Quelle fraction de sa bibliothèque représente la catégorie des bandes dessinées ?

4 * Complète l'écriture de ces fractions.

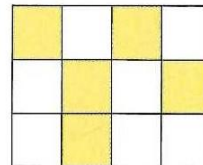
a. $\frac{4}{\dots}$



c. $\frac{\dots}{9}$



b. $\frac{5}{\dots}$



d. $\frac{\dots}{\dots}$

