

Nom : .....


Date : .....

**1. Réalise les groupements indiqués :**



Regroupe les fleurs par 2 :





Regroupe les fleurs par 3 :



Regroupe les poissons par 2 :



Regroupe les poissons par 3 :



**2. Écris ce qui manque :**

.	2	.	4
---	---	---	---

1	.	3	.
---	---	---	---

.	3	.	5
---	---	---	---

•	•	
---	---	--

•	•	
---	---	--

	2
--	---

	3
--	---