



Maths

Fiche 1

1 Calcul mental : addition et soustraction de petits nombres : exemple : $5 + 3$; $5 - 3$



--	--	--	--	--	--	--	--	--	--	--	--	--	--	--	--	--	--	--	--

2 Complète les cases.

12																			
25																			
40																			

3 Calcule. Attention : il y a des additions et des soustractions !

$5 + 6 = \dots$

$8 - 2 = \dots$

$3 - 1 = \dots$

$3 + 5 = \dots$

$9 - 3 = \dots$

$3 + 1 = \dots$

$4 + 4 = \dots$

$6 - 5 = \dots$

$7 - 5 = \dots$

$3 + 3 = \dots$

$5 - 5 = \dots$

$7 + 5 = \dots$



4 Range les nombres du plus petit au plus grand.

12 - 19 - 32 - 48 - 27 - 7



7_



5 Range les nombres du plus grand au plus petit.


36 - 23 - 4 - 12 - 49 - 9





Maths

1 Dictée de nombres




--	--	--	--	--	--	--	--	--	--	--	--	--	--	--

2 Compte de 1 en 1 et complète les cases.

37														
49														
61														

3 Calcule. Attention : il y a des additions et des soustractions !



$4 + 6 = \dots$

$9 - 1 = \dots$

$6 - 6 = \dots$

$6 + 5 = \dots$

$6 - 2 = \dots$

$8 + 8 = \dots$

$7 + 7 = \dots$

$4 - 1 = \dots$

$5 - 4 = \dots$

$5 + 5 = \dots$

$8 - 5 = \dots$

$3 + 7 = \dots$

4 Range les nombres du plus petit au plus grand.

23 - 25 - 29 - 35 - 38 - 33 - 30 - 20



5 Range les nombres du plus grand au plus petit.

28 - 23 - 27 - 45 - 48 - 43 - 47 - 20





Maths

Fiche 3

1 Calcul mental : les doubles : $2+2$, $4+4$...




--	--	--	--	--	--	--	--	--	--	--	--	--	--	--

2 Compte de 1 en 1 et complète les cases.

	24													
		12												
	38													

3 Calcule. Attention : il y a des additions et des soustractions !



$14 + 2 = \dots$

$10 - 1 = \dots$

$10 - 6 = \dots$

$12 + 5 = \dots$

$9 - 2 = \dots$

$9 + 3 = \dots$

$10 + 7 = \dots$

$14 - 1 = \dots$

$10 - 4 = \dots$

$10 + 5 = \dots$

$18 - 2 = \dots$

$10 + 9 = \dots$

4 Range les nombres du plus petit au plus grand.



47 - 74 - 7 - 67 - 37 - 17



5 Range les nombres du plus grand au plus petit.




26 - 62 - 2 - 6 - 56 - 36 - 60









Maths

1 Calcul mental : appui sur les doubles : $2+3$, $4+5$...

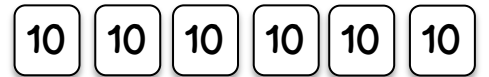







--	--	--	--	--	--	--	--	--	--	--


2 Combien de perles ont Tirobot et Robotine ?



3 Colorie les cartes et les perles qu'il faut choisir pour obtenir le nombre de Robotine



4 Complete.




..... cartes de 10.
..... cartes de 1.



..... cartes de 10.
..... cartes de 1.




..... cartes de 10.
..... cartes de 1.



..... cartes de 10.
..... carte de 1.



..... cartes de 10.
..... cartes de 1.



..... carte de 10.
..... cartes de 1.