

# Merci de me transmettre les exercices pour correction

Plan de travail du jeudi 2 avril 2020

Rituels du matin (Exercice à faire sur le cahier bleu.)

Votre enfant doit écrire la date puis la matière sur son cahier bleu.

- Range les nombres du plus petit au plus grand :

- 772 – 279 – 167 – 672 – 724

.....

- 678 – 846 – 647 – 476 – 684

.....

- Range les nombres du plus grand au plus petit :

- 772 – 279 – 167 – 672 – 724

.....

- 678 – 846 – 647 – 476 – 684

.....

- Calcul posé : Je pose puis je calcule les soustractions suivantes.

$$\begin{array}{r} 527 \\ - 214 \\ \hline \end{array}$$

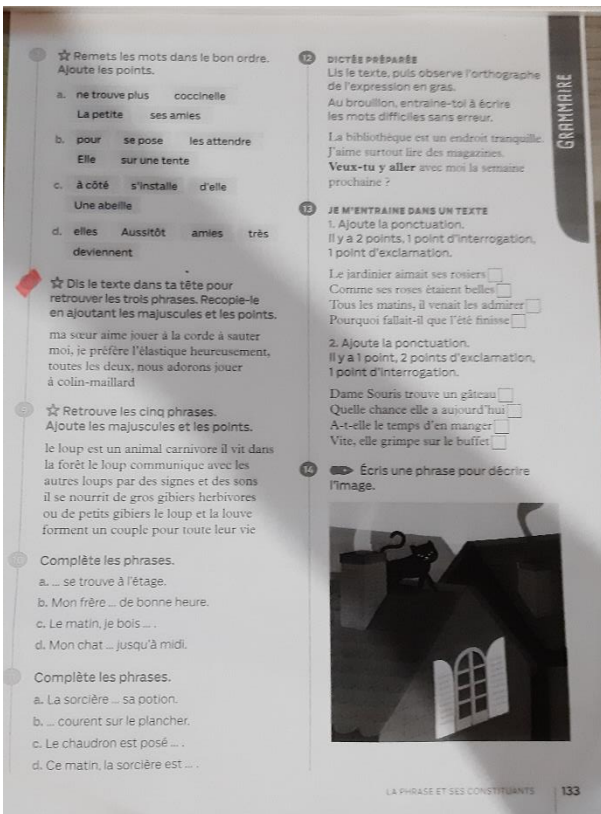
$$\begin{array}{r} 794 \\ - 440 \\ \hline \end{array}$$

$$\begin{array}{r} 635 \\ - 212 \\ \hline \end{array}$$

$$\begin{array}{r} 846 \\ - 405 \\ \hline \end{array}$$

$$\begin{array}{r} 968 \\ - 256 \\ \hline \end{array}$$

$$\begin{array}{r} 317 \\ - 113 \\ \hline \end{array}$$



Ecrire la matière : « Grammaire »

Titre : Leçon 19 : La phrase

- Lire la leçon « Je retiens » page 132

- **Exercice n°7 page 133** à faire sur le cahier bleu

---

Conjugaison : Le verbe « être » au présent de l'indicatif

---

(Exercice à faire sur le cahier bleu.)

Consigne : Complète ces phrases avec **est** ou **es**.

La boîte ..... en plastique.

Flora ..... sous sa douche.

Tu ..... mon ami.

Tu .... Devant l'entrée de ton immeuble.

Blanche-Neige ..... perdue dans la forêt.


Tu .....déguisé pour le carnaval.

Titre : L'addition posée sans retenue page 54

Faire les exercices sur le polycopié.

**10 L'addition posée sans retenue**

**1** Calcule le nombre total de jetons.  
 $25 + 33 + 21$




**2** Effectue les additions.


$\begin{array}{r} d \quad u \\ 4 \quad 5 \\ + 3 \quad 4 \\ \hline \end{array}$	$\begin{array}{r} d \quad u \\ 6 \quad 2 \\ + 2 \quad 2 \\ + 1 \quad 2 \\ \hline \end{array}$	$\begin{array}{r} d \quad u \\ 3 \quad 0 \\ + \quad 8 \\ + 5 \quad 1 \\ \hline \end{array}$	$\begin{array}{r} d \quad u \\ 4 \quad 3 \\ + 3 \quad 0 \\ + \quad 6 \\ \hline \end{array}$
--	---	---	---

**3** Pose et effectue les additions.

$42 + 25 + 12$	$51 + 6 + 32$	$34 + 51 + 13$
----------------	---------------	----------------



Place bien les unités  
sous les unités,  
les dizaines  
sous les dizaines



**4** PROBLÈME À l'animalerie, il y a trois aquariums qui contiennent 24, 32 et 23 poissons.  
Combien de poissons y a-t-il en tout ?

Opération : \_\_\_\_\_

Phrase-réponse : \_\_\_\_\_

quante-quatre

Recherche sur ton cahier

Merci de me transmettre les exercices pour correction

### TROIS ESCARGOTS

J'ai rencontré trois escargots  
Qui s'en allaient cartable au dos  
Et dans le pré trois limaçons  
Qui disaient par cœur leur leçon.  
Puis dans un champ, quatre lézards  
Qui écrivaient un long devoir.  
Où peut se trouver leur école ?  
Au milieu des avoines folles ?  
Et leur maître est-il ce corbeau  
Que je vois dessiner là-haut  
De belles lettres au tableau ?

Maurice CARÊME

